

第十四届“汉语桥”世界大学生中文比赛试题：

第二部分 国情知识（共 77 题）

标*为今年新题，19 道

一、填空题

1. 中国位于亚洲大陆东部、太平洋西岸，陆地面积约_____平方公里。

答案：960 万

2*. 2015 年是联合国成立_____周年。联合国是一个国际性组织，现有会员国 193 个。联合国的宗旨和工作以《联合国宪章》中规定的机构目标和原则为出发点。

答案：70

3. 中国人口在地域上的分布特点是_____多_____少。

答案：东，西

4. 《_____》是中国第一本按汉语拼音音序排列的小型字典。它是迄今最有影响、最权威的一部小型汉语字典，堪称小型汉语语文辞书的典范。

答案：新华字典



5. “世界杂交水稻之父”_____院士，利用中国野生稻资源培育出了世界闻名的杂交水稻。他指导的中国超级杂交稻平均亩产破 900 公斤，创世界杂交水稻较大面积亩产最高纪录。

答案：袁隆平



6. 中国有 34 个省级行政区，包括 23 个省、_____个自治区、_____个直辖市、_____个特别行政区。

答案：5、4、2

7*. 冬季奥林匹克运动会是由国际奥林匹克委员会主办的世界性冬季项目运动会。2022 年第 24 届冬奥会举办候选城市为中国的_____和哈萨克斯坦的阿拉木图。

答案：北京

8*. 2014 年 9 月 27 日是第一个“_____”。截止 2014 年，全球已在 126 个国家和地区，设立了 475 所学院和 851 个课堂。孔子学院成为一张闪亮的中国文化名片。

答案：孔子学院日

9*. 中国政府提出的“一带一路”是“丝绸之路经济带”和“21 世纪_____”的简称。

答案：海上丝绸之路

10. 中国古代著名的_____之路，是通过河西走廊，进入塔里木盆地，再通过西亚到达欧洲的。

答案：丝绸

11. 2014 年，_____登陆月球已满一周年。它是中国第一个实现月球软着陆的无人登月探测器，标志中国已成为继前苏联、美国之后世界上第三个实现地外天体软着陆的国家。



答案：嫦娥三号探测器

12. 中国通信行业三大运营商分别是中国联通、中国移动、_____。

答案：中国电信

13. 2006年7月1日，_____铁路全线通车，它是目前世界上海拔最高的高原铁路。

答案：青藏

14. 中国在南极有三个科学考察站，它们分别是：_____、中山站和昆仑站。

答案：长城站

15. 2012年6月18日，中国航天员首次访问在轨飞行器---天宫一号获得圆满成功。_____成为中国首位女航天员。

答案：刘洋



16. 歌曲“请到天涯海角来，这里四季春常在”中的“天涯海角”位于中国最南端的_____省，2011年它成为世界第四个离岛免税区。

答案：海南



17. _____是中国的特别行政区，1999年12月20日回归中国，是自由港，也是著名旅游胜地。

答案：澳门



18. 孔子的故乡是_____省曲阜。曲阜是春秋时期鲁国的都城，这里有丰富的文化遗产，其中最著名是曲阜三孔——孔庙、孔府、孔林。

答案：山东

19. 中国规定：首都北京所在时区（东8时区）的标准时为全国统一时间，称为_____。

答案：北京时间

20*. 2015年2月26日，第69届联合国大会以协商一致的方式通过决议，决定将于今年5月举行纪念世界反法西斯战争胜利_____周年。

答案：70

二、选择题

21. _____是中国大陆的火警电话号码。


- A. 120 B. 119
C. 114 D. 110

答案：B

22. 中国最大的港口是_____，其吞吐量位居世界第一位。

- A. 连云港 B. 深圳港
C. 青岛港 D. 上海港

答案：D



23. 下图中，中国小学生脖子上系的是_____，它是少先队员的标志，它代表红旗的一角，象征着胜利。

- A. 红领带 B. 红围巾
C. 红领巾 D. 红丝带




答案：C

24. _____是世界上最珍贵的动物之一，数量十分稀少，属于国家一级保护动物，体色为黑白相间，被誉为“中国国宝”。现存的主要栖息地是中国四川、陕西、甘肃等省。

答案：熊猫



25. 下面标志_____是中国银行的标志：

- A.  B. 

- C.  D. 

答案：A

26. 中国有 5 个少数民族自治区，下面不是自治区的是_____。

- A. 广西 B. 内蒙古
C. 宁夏 D. 云南

答案：D

27. 青海湖既是中国最大的内陆湖泊，也是中国最大的咸水湖。_____就是因其而命名的。

- A. 湖北省 B. 青海省
C. 湖南省 D. 河北省

答案：B

28*. 2014 年，中国自由贸易区的试点城市除了上海外，还将在_____、天津和福建三地的特定区域再增设三个自由贸易试验区。

- A. 深圳 B. 珠海
C. 青岛 D. 广东

答案：D

29*. 在中国，“学习雷锋好榜样”是一句广为人知的歌词。雷锋因其乐于助人，全心全意为他人服务而被人们赞赏。他去世以后，每年_____被定为“雷锋日”。

- A. 4 月 5 日 B. 3 月 5 日
C. 5 月 4 日 D. 3 月 15 日

答案：B

30. _____是中国面积最大的省级行政区，约占中国陆地总面积的六分之一。

- A. 青海 B. 西藏
C. 新疆 D. 河南

答案：C

31. 中国地形多种多样，各类地形中占全国陆地面积最大的是_____。

- A. 山地 B. 沙漠

C. 盆地 D. 平原

答案: A

32. 中国体育代表团在第 30 届伦敦奥运会上打破 6 项世界纪录和 6 项奥运会纪录,并以 38 金 27 银 22 铜的成绩名列金牌、奖牌榜第_____名。

A. 一 B. 二 C. 三 D. 四

答案: B

33. 中国是一个多民族的国家,共有_____个民族。

A. 50 B. 55

C. 32 D. 56

答案: D

34*. 为了更好地缅怀在第二次世界大战中献身和作出巨大贡献的人们,表明中国人民坚决维护国家主权,领土完整和世界和平的决心,中国全国人大常委会决定,将 12 月 13 日定为国家公祭日。2014 年 12 月 13 日,第一次国家公祭日活动在_____举行。

A. 北京 B. 上海

C. 南京 D. 西安

答案: C

35. 柴达木盆地,位于青海省西北部,不仅是盐的世界,而且还有丰富的石油、煤以及多种金属矿藏,所以有“_____”的美称。


A. 中国粮仓

B. 天府之国

C. 鱼米之乡

D. 聚宝盆

答案: D



36. 1986 年,中国开始实行_____年制义务教育。

A. 十 B. 十一

C. 九 D. 八

答案: C

37. 中国于 1988 年设立国家汉语水平考试,简称_____。这项考试是为测试母语为非汉语者的汉语水平而设立的中国国家级标准化考试。

A. SHK B. HSK

C. KHS D. HKS

答案: B



38. _____是中国最主要的粮食作物,是全国 60%以上人口的主食。

A. 小麦 B. 玉米

C. 水稻 D. 高粱

答案: C

39*. 2014 年 9 月 20 日,中国最大的互联网公司_____在美国纽约证券市场挂牌上市,成为世界第二大互联网公司。

A. 腾讯 B. 阿里巴巴

C. 新浪 D. 百度

答案: B

40. 第 29 届夏季奥林匹克运动会,于 2008 年 8 月 8 日在中国_____开幕。这是中国首次承办奥运会,此次奥运会的口号是“同一个世界,同一个梦想”。

A. 上海 B. 深圳

C. 北京 D. 天津

答案: C

41. 新中国最早的股票交易所是在 1990 年成立的,现在中国大陆的两个股票交易所分别在上海和_____。

A. 天津 B. 深圳

C. 北京 D. 武汉

答案: B

42. 中国少数民族众多,其中____是现在中国人口最多的少数民族,主要分布在广西、云南、广东和贵州等省区。

- A. 壮族 B. 傣族
C. 藏族 D. 回族

答案: A

43. 改革开放以来,中国的第一个经济特区是_____。

- A. 珠海 B. 厦门
C. 深圳 D. 汕头

答案: C

44. 中国气候的特点是_____,属于大陆性季风气候。

- A. 北暖南寒 B. 南暖北寒
C. 东暖西寒 D. 西暖冬寒

答案: B

45*. 2014年4月17日,中国_____公司宣布旗下微博业务正式登陆纳斯达克,成为全球范围内首家上市的中文社交媒体。

- A. 搜狐 B. 百度
C. 新浪 D. 雅虎

答案: C

46. 中国北京市的电话区号是_____。

- A. 010 B. 020
C. 001 D. 002

答案: A

47*. 兰新高铁横贯中国西北地区甘肃、青海和新疆三省区,被誉为“钢铁丝绸之路”。2014年11月,_____至哈密段正式通车,标志着新疆进入了高铁时代。

- A. 长春 B. 吉林
C. 乌鲁木齐 D. 呼和浩特

答案: C

48. 香港由香港岛、九龙和新界组成,是中国的特别行政区,_____回归中

国,其首长是行政长官,实行一国两制。

- A. 1998年9月 B. 1999年7月
C. 1997年7月 D. 2000年1月



答案: C

三、判断题

49*. 2014年11月17日,沪港通股票交易正式启动。这标志着中国资本市场对外进一步开放。

答案: 正确

50*. 2014年11月,以“互联互通 共享共治”为主题的首届世界互联网大会在浙江乌镇举办,这是中国举办的规模最大、层次最高的世界级互联网大会。

答案: 正确。

51. 联合国安全理事会(简称安理会)是联合国的六大主要机构之一。它是唯一有权采取强制行动的联合国机构。中国是安理会五个常任理事国之一。

答案: 正确。

52. 中华人民共和国的国歌是1935年由聂耳谱曲的《义勇军进行曲》。

答案: 正确。

53. 第一位担任世界卫生组织(WHO)主席的中国人是陈冯富珍女士。

答案: 正确

54. 1949年9月27日,中国人民政治

协商会议第一届全体会议一致通过中华人民共和国的国都定于北平，即日起北平改名北京。

答案：正确。

55. 1911 年以孙中山先生为代表的革命党人发动了震惊世界的辛亥革命。这次民主革命，结束了中国两千多年来的封建帝制，开启了民主共和的新纪元。

答案：正确。

56*. 2014 年，由亚太经济合作组织发起的 APEC 会议于 11 月中旬在北京举行。本次会议的主题是“共建面向未来的亚太伙伴关系”。这是中国第一次举办 APEC 会议。

答案：错误。中国第一次举办 APEC 会议是 2001 年在上海。

57. 珠穆朗玛峰海拔 8844.43 米，是中国，也是世界上最高的山峰。它位于中国和尼泊尔之间的国境线上。

答案：正确。



58. 中华人民共和国国旗是五星红旗，旗面为红色，旗面左上方缀有五颗黄色五角星。



答案：正确。

59*. 由中国国防科技大学研制的天河二号超级计算机系统在“2013 年国际超级计算大会”上获得第一名的荣誉。这是中国首次在世界超级计算机 500 强排名中夺冠。

答案：错误。2010 年天河计算机一号首次夺冠。

60*. 随着中国改革开放和经济社会发展，越来越多的中国人热衷于旅游休闲，2014 年，中国内地居民当年出境旅游首次突破一亿人次。

答案：正确。

61. 中国的行政区域，基本分为省（自治区、直辖市、特别行政区）、县（自治县、市）、乡（镇）三级。

答案：正确。

62*. 第二次世界大战于 1931 年 9 月 1 日全面爆发，以同盟国胜利宣告结束。这是人类历史上破坏性最大的一次战争，是对人类文明的巨大摧残。

答案：正确。

63*. 飞虎队，即美籍志愿大队，简称 A V G，是第二次世界大战期间由美国飞行人员组成的空军部队。该大队协助中国人民为维护世界和平做出了卓越的贡献。

答案：正确。

64*. 2015 年 12 月，第九届孔子学院大会在厦门召开，这是孔子学院大会

首次在北京以外的地区举行，本届大会主题为“迎接孔子学院新 10 年”。
答案：正确。

曹操 —— 战国时期
李白 —— 三国时期
李时珍 —— 唐朝

四、连线题

65. 请将下列省会与其所在省份连接起来。

南京	山西
兰州	四川
成都	江苏
武汉	甘肃
太原	湖北

答案：

南京	——	山西
兰州	——	四川
成都	——	江苏
武汉	——	甘肃
太原	——	湖北

66. 中国古代将五大名山称为五岳，请将下列名山和它所在的省份连接起来。

东岳泰山	湖南省
西岳华山	陕西省
北岳恒山	山东省
南岳衡山	山西省
中岳嵩山	河南省

答案：

东岳泰山	——	湖南省
西岳华山	——	陕西省
北岳恒山	——	山东省
南岳衡山	——	山西省
中岳嵩山	——	河南省

67. 将下列历史名人与所在朝代连接起来。

屈原	明朝
曹操	战国时期
李白	三国时期
李时珍	唐朝

答案：

屈原	——	明朝
----	----	----

68. 将下面的“中国之最”与相应的城市连接起来。

距离海洋最远的城市	拉萨
中国最大的城市	上海
雾日最多的城市	吐鲁番
海拔最高的城市	乌鲁木齐
温度最高的城市	重庆

答案：

距离海洋最远的城市	——	拉萨
中国最大的城市	——	上海
雾日最多的城市	——	吐鲁番
海拔最高的城市	——	乌鲁木齐
温度最高的城市	——	重庆

五、列举题

69. 中国已建立自然保护区一千多处，其中有 14 处被列为世界级自然保护区。请列举出其中三个保护区的名称。

答案（供参考）：

- (1) 长白山自然保护区
- (2) 卧龙自然保护区
- (3) 鼎湖山自然保护区
- (4) 梵净山自然保护区
- (5) 武夷山自然保护区
- (6) 锡林郭勒草原自然保护区
- (7) 神农架自然保护区
- (8) 博格达峰自然保护区
- (9) 盐城自然保护区
- (10) 西双版纳自然保护区
- (11) 天目山自然保护区
- (12) 茂兰自然保护区
- (13) 九寨沟自然保护区
- (14) 丰林自然保护区

70. 请列举出中国现行金融体系中的四大国有商业银行。

答案：中国工商银行、中国农业银行、中国银行、中国建设银行

71. 请列举中国三大国有石油公司。
答案：中国石油天然气集团、中国石油化工集团公司、中国海洋石油总公司。

72. 网络购物现在在中国很受欢迎，请你列举出 3 个你所知道的中国购物网站的名称。
参考答案（供参考）：淘宝网、当当网、京东商城、卓越亚马逊、凡客诚品、易趣网、拍拍网、麦考林等。

73. 中国有 56 个民族，请列举其中的 5 个。
答案（供参考）：汉族、回族、藏族、维吾尔族、苗族、彝族、壮族、朝鲜族、满族、侗族、瑶族、白族、土家族、哈尼族、哈萨克族、傣族、黎族、傈僳族、佤族、高山族、拉祜族、水族、东乡族、纳西族、景颇族、柯尔克孜族、土族、达斡尔族、仫佬族等。

74. 请列举出中国省、直辖市、自治区、特别行政区的简称。（至少五个）
答案（供参考）：

省：
河北省（冀） 山西省（晋）
辽宁省（辽） 吉林省（吉）
黑龙江省（黑） 江苏省（苏）
浙江省（浙） 安徽省（皖）
福建省（闽） 江西省（赣）
山东省（鲁） 河南省（豫）
湖北省（鄂） 湖南省（湘）
广东省（粤） 海南省（琼）
青海省（青） 台湾省（台）
四川省（川、蜀） 贵州省（黔、贵）
云南省（滇、云） 陕西省（陕、秦）
甘肃省（甘、陇）
直辖市：
北京（京） 上海（沪）
天津（津） 重庆（渝）
自治区：
西藏自治区 藏
新疆维吾尔自治区 疆

广西壮族自治区 桂
宁夏回族自治区 宁
内蒙古自治区 蒙
特别行政区：
香港特别行政区 港
澳门特别行政区 澳

75. 长江是中国第一长河、世界第三大河。它发源于青藏高原，自西向东注入东海，途经 11 个省级行政区。请列举出其中的三个省级行政区的名字。
答案（供参考）：青海省、西藏自治区、云南省、四川省、重庆市、湖北省、湖南省、江西省、安徽省、江苏省和上海市。

76. 请列举你所知道的中国报纸的名称。（至少四个）
答案（供参考）：《光明日报》、《解放军报》、《经济日报》、《科技日报》、《人民日报》、《人民日报》（海外版）、《人民政协报》、《中国青年报》、《环球时报》、《计算机世界》、《作家文摘》、《湖南日报》、《健康报》、《潇湘晨报》、《长沙晚报》、《网络世界》、《金融时报》、《经济参考报》等。

77. 中国地域辽阔，请列举四大高原的名称。
答案：青藏高原、内蒙古高原、黄土高原和云贵高原。